




.....


μ : _____ μ μ : _____

Στο κατάστημα παιχνιδιών


Τα παιδιά της Α2 πήγαν στο κατάστημα παιχνιδιών. Για να δούμε τι αγόρασαν!




€8




€2



€6



€5



€4



€4



€3



€1



€4



€2

Προβλήματα:

1. Η Ελισάβετ αγόρασε μια κούκλα και ένα παλιάτσο. Πόσα πλήρωσε;

Εξίσωση: _____

Απάντηση: _____

2. Η Αντωνία αγόρασε ένα ρολόι και ένα αλογάκι. Πόσα πλήρωσε;

Εξίσωση: _____

Απάντηση: _____

3. Ο Γιώργος αγόρασε ένα αυτοκινητάκι. Έδωσε ένα χαρτονόμισμα των πέντε ευρώ. Πόσα ρέστα πήρε;

Εξίσωση: _____

Απάντηση: _____

4. Ο Ζαχαρίας αγόρασε ένα ελικόπτερο. Έδωσε ένα χαρτονόμισμα των δέκα ευρώ. Πόσα ρέστα πήρε;

Εξίσωση: _____

Απάντηση: _____

5. Η Μαρία αγόρασε μια κούκλα και ένα αρκουδάκι. Έδωσε ένα χαρτονόμισμα των δέκα ευρώ. Πόσα ρέστα πήρε;

Εξίσωση: _____

Απάντηση: _____

6. Η Ελένη αγόρασε δυο κούκλες. Πόσα πλήρωσε;

Εξίσωση: _____

Απάντηση: _____

7. Η Γεωργία αγόρασε 4 αρκουδάκια. Πόσα πλήρωσε;

Εξίσωση: _____

Απάντηση: _____

8. Η Δέσποινα αγόρασε 6 κουτιά κύβους για να δώσει και στις φίλες της. Πόσα πλήρωσε;

Εξίσωση: _____

Απάντηση: _____

10. Η Παρασκευή πλήρωσε όσα λέει η εξίσωση: $2 \times 4 =$

Σχεδίασε τι μπορεί να αγόρασε.