





ΔΗΜΟΤΙΚΟ ΣΧΟΛΕΙΟ

Όνομα: _____ Τάξη: _____

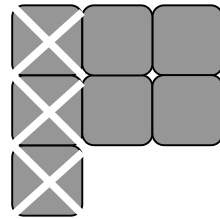
1. Συμπλήρωσε:



- =



- =



-




- =

2. Σχεδιάσε μια εικόνα για την μαθηματική πρόταση

6 - 2 = 8

5 + 4 = 9



3. Συμπλήρωσε τους αριθμούς που λείπουν



$$\boxed{5} + \boxed{3} = \boxed{}$$

$$\boxed{8} - \boxed{3} = \boxed{}$$

$$\boxed{3} + \boxed{} = \boxed{8}$$

$$\boxed{8} - \boxed{} = \boxed{3}$$

4. Γράψε τους αριθμούς που λείπουν

$10 - 3 = \square$

$8 - \square = 6$

$\square - 5 = 1$

$5 - 2 = \square$

$9 - \square = 3$

$\square - 2 = 2$

$4 + 4 = \square$

$7 + \square = 10$

$\square - 4 = 3$

$3 + 3 = \square$

$5 + \square = 9$

$\square + 3 = 5$

$5 + 4 = \square$

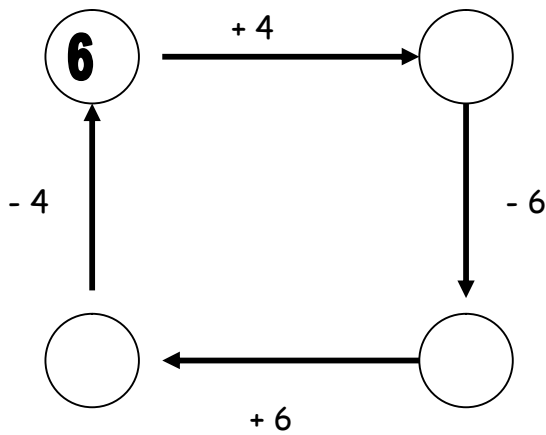
$3 + \square = 9$

$\square + 1 = 7$

Παιδιά,
βοήθειασσα!!



5. Γράψε στους κύκλους τους αριθμούς που λείπουν



8. Γράψε 4 διαφορετικές μαθηματικές προτάσεις χρησιμοποιώντας τους πιο κάτω αριθμούς 7, 3, 10

$$\square + \square = \square$$

$$\square + \square = \square$$



Μπράβο, τα πήγατε περίφημα!
Είστε σαΐνια!

$$\square - \square = \square$$

$$\square - \square = \square$$